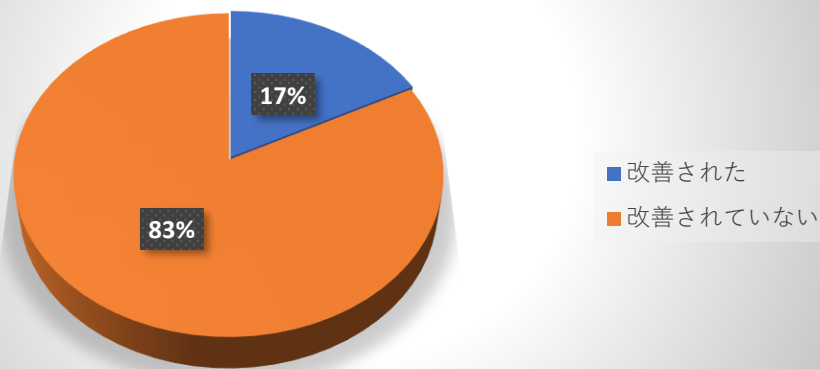
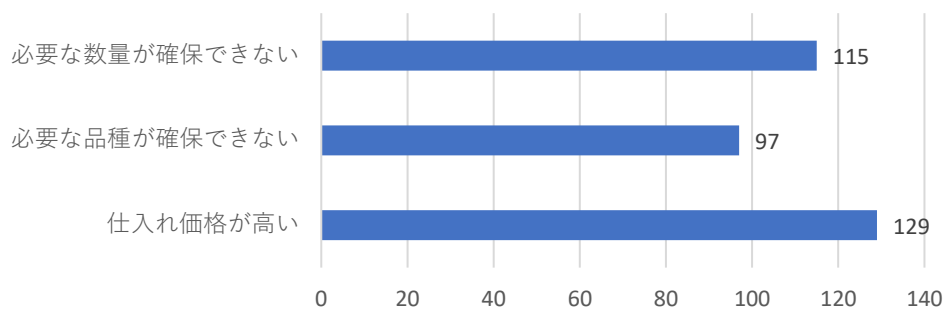


調査1. 令和6年の端境期の仕入状況に比べて、12月末の仕入状況は改善されていますか n=177

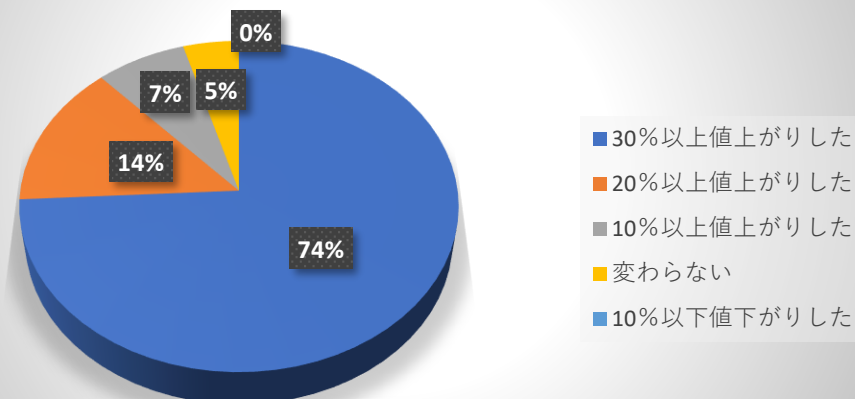


調査1-1. 「改善されていないと答えた方」に伺います。改善されていない点は何ですか。（複数回答可）

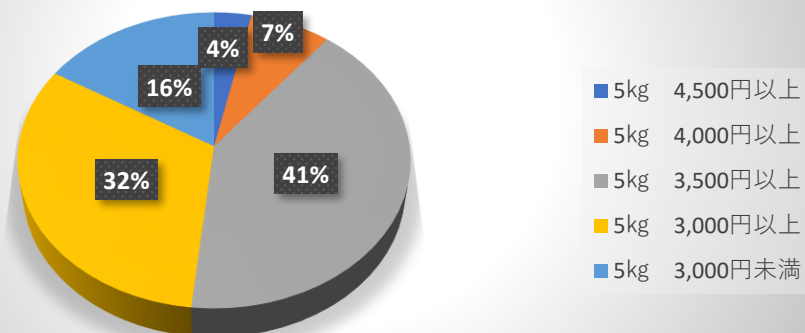
回答合計数 = 338



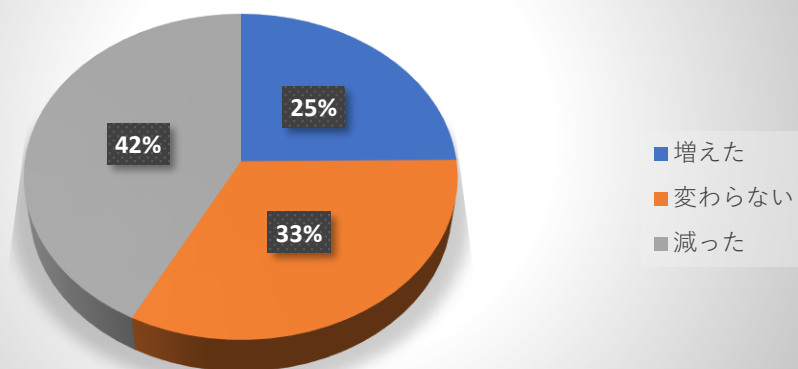
調査2. 米の仕入価格について、令和6年端境期の仕入価格に比べて、12月時の仕入価格について伺います



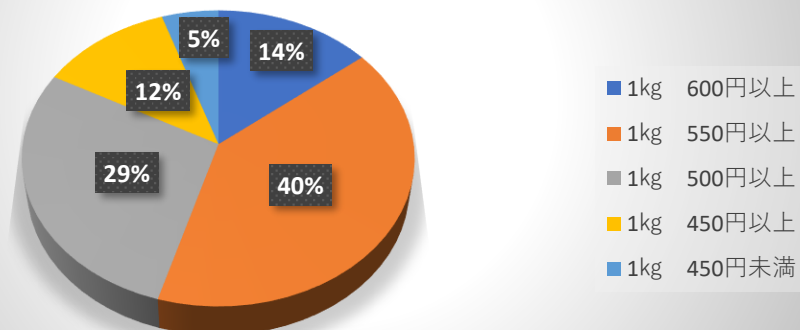
調査3. 「店頭米」の销售价格について伺います。令和6年12月時の主に売れている商品5kg入の価格帯（本体）はいくらですか。n=177



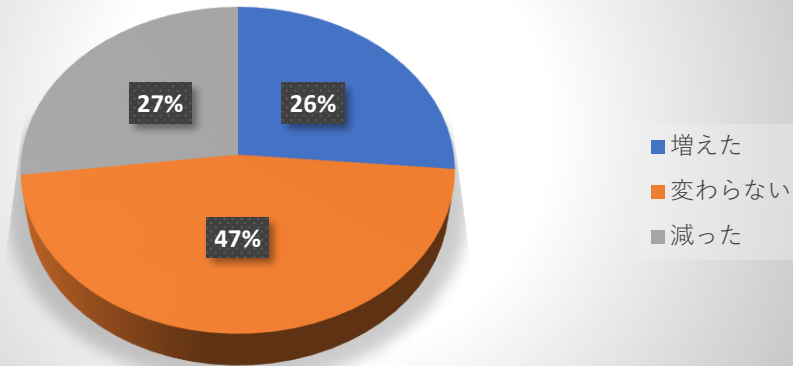
調査4. 「店頭米」の令和6年の端境期の販売数量に比べて、12月の販売数量はいかがですか。n=176



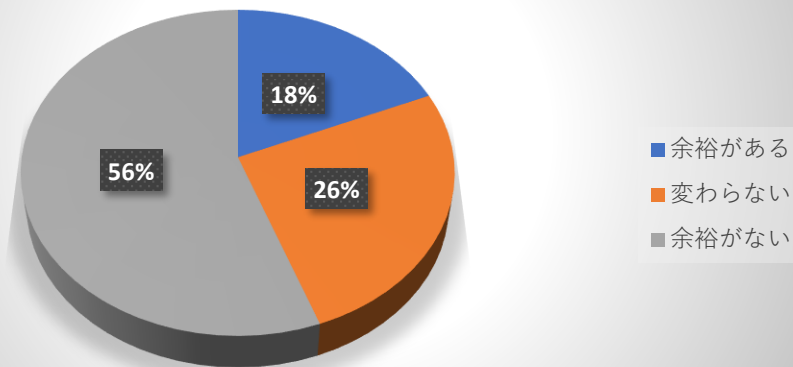
調査5. 「業務用米」の销售价格について伺います。令和6年12月時の1kgの平均価格（本体）はいくらですか。n=175



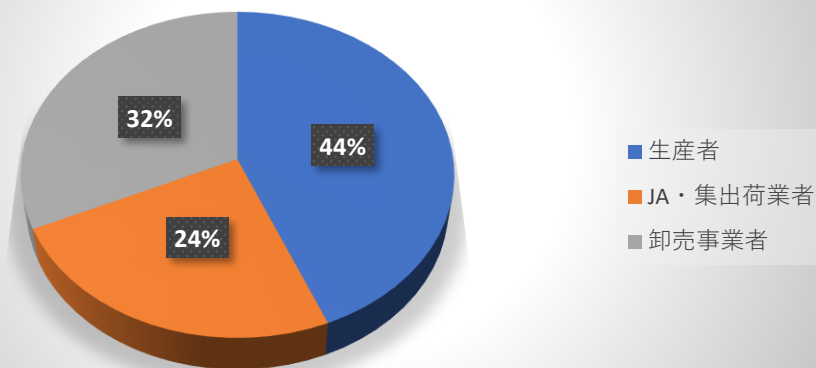
調査6.「業務用米」について、令和6年の端境時に比べて、12月末時の販売数量はいかがですか。n = 177



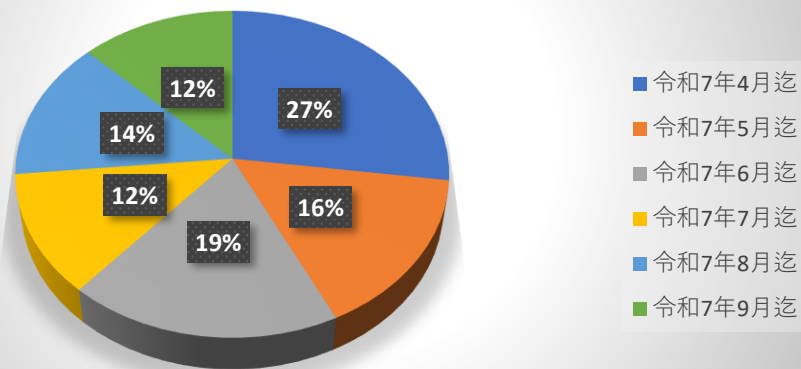
調査7.令和6年の端境期の在庫状況に比べて、12月時の在庫状況について伺います。n=177



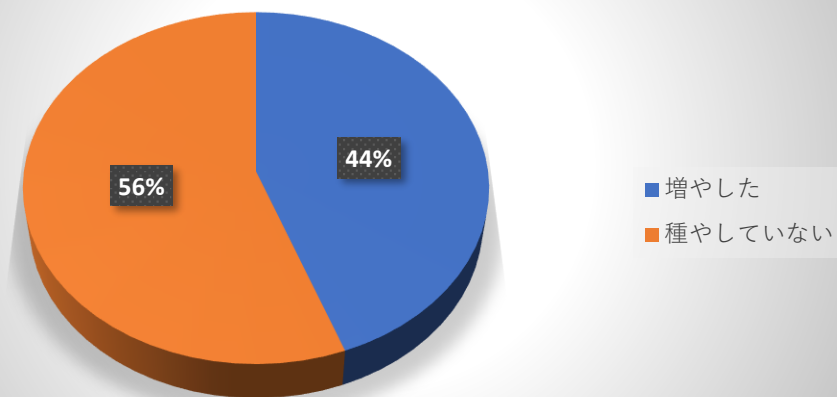
調査8.令和5年産米の最も仕入れ量が多かった仕入先を下記よりお選びください。(一つ選択) n=175



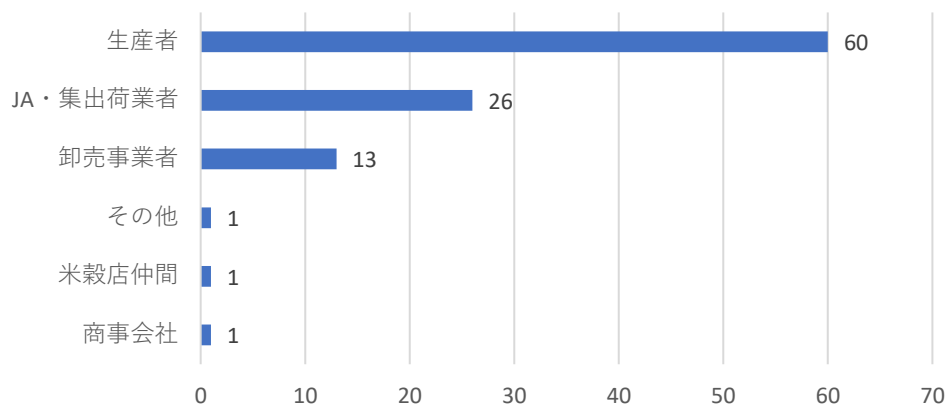
問9.令和6年12月時点で、何月分までの在庫を保有してま
すか。（年間契約も含めた在庫） n=165



質問10.令和6年産米の仕入の際に、新規仕入先を増やしましたか。
n=175



質問11.質問10にて「増やした」と回答された方にお聞きいたし
ます。新規取引先は次のうちどちらですか。（複数回答可）



質問12.令和6年12月の仕入量を教えてください。（回答単位：トン）

回答件数 110件の平均仕入数量

99.54トン